

Переводной экзамен по ГЕОГРАФИИ**Инструкция по выполнению работы**

Работа состоит из 3-х частей, включающих 29 заданий. На выполнение работы отводится 60 минут.

Часть 1 содержит 23 задания (1 – 23). К каждому заданию приводится 4 варианта ответов, из которых только один верный. При выполнении заданий части 1 обведите кружком номер выбранного ответа в экзаменационной работе. Если Вы обвели не тот номер, то зачеркните его крестиком и обведите номер правильного ответа.

Часть 2 включает 3 задания. Ответ нужно записать в экзаменационной работе в отведенном для этого месте. Если записали неверный ответ, то зачеркните его и рядом запишите верный.

Часть 3 включает 3 задания. При выполнении задания необходимо дать развернутые ответы на вопросы. Ответ записать на свободной части бланка.

Советую выполнять задания в том порядке, в котором они даны. Для экономии времени пропускайте задания, которые не удастся выполнить сразу, и переходите к следующему. В оставшееся время вернитесь к пропущенным заданиям. Постарайтесь выполнить как можно больше заданий и набрать наибольшее количество баллов.

Желаем успеха!

Часть 1

Ответом к заданиям 1 – 23 будет номер выбранного ответа в работе.

1. В каком океане находится Марианский глубоководный желоб?
1) Индийском 2) Тихом 3) Атлантическом 4) Северном Ледовитом.
2. Какое из перечисленных морских течений действует в Тихом океане?
1) Гольфстрим 2) Бразильское 3) Гвинейское 4) Куроисио.
3. Соболь - животное, обитающее в природной зоне:
1) степей 2) тайги 3) пустынь 4) тундры
4. Одним из основных современных видов хозяйственной деятельности человека в тундре является:
1) заготовка леса 2) добыча полезных ископаемых 3) разведение скота
4) выращивание зерна
5. Среди перечисленных бессточным озером является:
1) Байкал 2) Виктория 3) Чад 4) Онежское.
6. На каком из островов среднегодовое количество осадков максимально?
1) Исландия 2) Калимантан 3) Мадагаскар 4) Тасмания.
7. Месторождения каких полезных ископаемых приурочены к древним платформам?
1) нефти 2) железных руд 3) медных руд 4) полиметаллических руд

8. Кто из перечисленных путешественников внес большой вклад в открытие и изучение Африки?

- 1) И. Москвитин 2) Д. Кук 3) Д. Ливингстон 4) Ф. Магеллан

9. Умеренный морской климат характерен для:

1) острова Суматра 2) Пиренейского полуострова 3) о. Великобритания 4) п-ова Юкатан

10. Какая из перечисленных горных систем самая протяженная?

- 1) Кордильеры 2) Урал 3) Альпы 4) Аппалачи

11. На каком из полуостровов в течение года действуют муссоны?

- 1) Лабрадор 2) Аляска 3) Индокитай 4) Сомали

12. Для какой из перечисленных природных зон характерно наибольшее количество грызунов?

- 1) тайги 2) тундры и лесотундры 3) степи 4) полупустыни и пустыни

13. На какой из перечисленных рек встречается большое количество порогов?

- 1) Волга 2) Амазонка 3) Конго 4) Миссисипи

14. Признаком морского типа климата является:

1) лето сухое и жаркое 2) зима влажная и теплая 3) большая амплитуда колебания температур

15. Дуб, мирт, дикая маслина - представители природной зоны:

1) экваториальных лесов 2) жестколистных лесов 3) тропических пустынь 4) широколиственных лесов

16. Самая высокая вершина мира Джомолунгма расположена в горах:

- 1) Кордильерах 2) Андах 3) Гималаях 4) Альпах.

17. Какой материк самый жаркий:

- 1) Африка 2) Австралия 3) Южная Америка 4) Северная Америка

18. Крайняя южная точка Африки:

- 1) мыс Игольный 2) мыс Доброй Надежды 3) мыс Альмади 4) мыс Рас-Хафун.

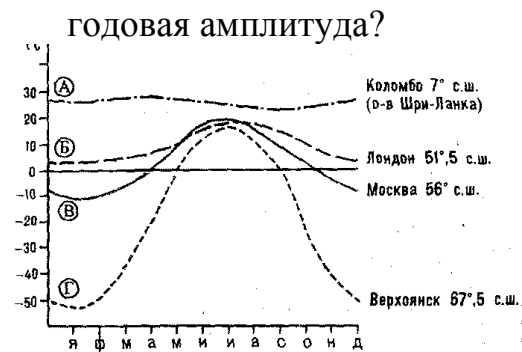
19. Климатический пояс Африки с ярко выраженной сезонностью: сухой зимой и влажным летом:

- 1) экваториальный 2) субэкваториальный 3) тропический 4) субтропический.

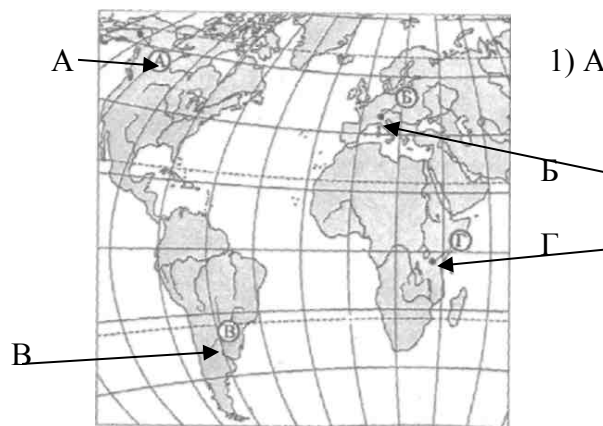
20. Самое соленое море относится к бассейну:

- 1) Тихого океана 2) Атлантического океана 3) Индийского океана 4) Северного Ледовитого

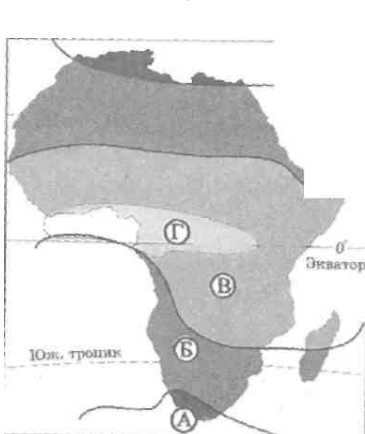
21. Используя график годового хода температур, определите, какой буквой обозначена наибольшая



22. Какой буквой на карте обозначен вулкан Килиманджаро?



23. Какой буквой на карте обозначен субэкваториальный пояс?



Часть 2

При выполнении заданий 24, 26 выпишите в места, отведенные для ответа, правильную последовательность. При выполнении задания 25 к каждому элементу первого столбца подберите соответствующий элемент из второго столбца. В поле ответа выпишите буквы ответа в правильной последовательности.

24. Распределите климатические пояса Африки в порядке уменьшения густоты речной сети:

- 1) экваториальный 2) тропический 3) субэкваториальный.

Ответ: _____

25. Установите соответствие.

Природная зона:

1. Влажные леса
2. Саванны
3. Пустыни

Климатический пояс:

- а) субтропический
б) тропический
в) субэкваториальный
г) экваториальный.

Ответ: _____

26. Распределите южные материки по мере увеличения их площади:

- 1) Антарктида 2) Африка 3) Южная Америка 4) Австралия.

Ответ: _____

Часть 3

Запишите сначала номер задания (27, 28 или 29), а затем развёрнутый ответ к нему. Ответы записывайте чётко и разборчиво на свободной части бланка

27. Почему высшая точка Африки - вулкан Килиманджаро - находится в пределах платформы, а не складчатой области, как на других материках?

28. Имеются ли в Африке ледники, если да, то в какой части материка?

29. Почему на платформах, как правило, располагаются равнины?